

PRUEBAS DE ACCESO A CICLOS FORMATIVOS DE GRADO SUPERIOR.

Orden de 26 de abril de 2002, (DOE. 9 de mayo)

Fecha: 19 de junio de 2002

DATOS DEL ASPIRANTE	CALIFICACIÓN
Apellidos: _____	APTO <input type="checkbox"/> NO APTO <input type="checkbox"/>
Nombre: _____ DNI: _____	
I.E.S. de inscripción: _____	
I.E.S. de realización: _____	

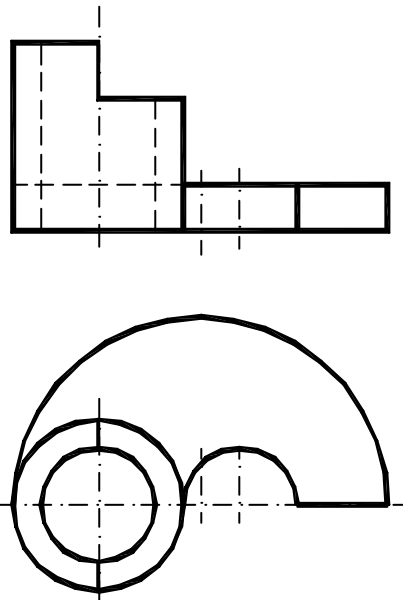
DIBUJO TÉCNICO (ESPECÍFICO)

Instrucciones:

Mantenga su DNI en lugar visible durante la realización del ejercicio.
Lea detenidamente los enunciados de los ejercicios antes de comenzar su resolución.

EJERCICIO -1

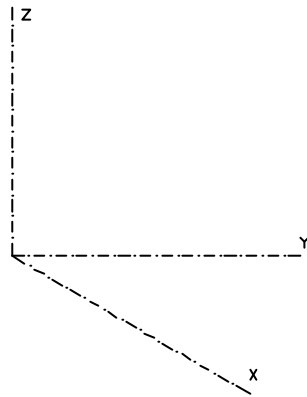
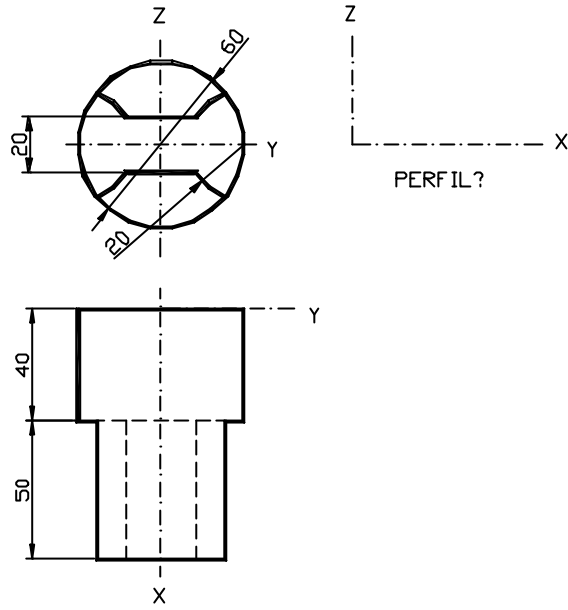
Acotar las proyecciones de la pieza dada de acuerdo a normas UNE.



EJERCICIO - 2

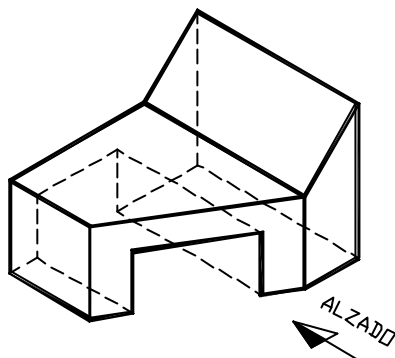
Representar en PERSPECTIVA CABALLERA, a escala 1:1 una figura correspondiente a las vistas que se representan. El coeficiente de reducción en el eje X es de 1/2. La posición de los ejes es la indicada.

Dibujar el perfil de la figura hallada.



EJERCICIO - 3

Dibujar a mano alzada las vistas (Alzado, Planta y Perfil) de la pieza representada.



Criterios de calificación:

- La solución correcta del problema enunciado se puntuará como máximo con el 70% de la nota adjudicada a este problema, siendo el 30% restante utilizado para valorar las destrezas referidas a la realización (Seguridad de trazado, ausencia de tachaduras y todo aquello que contribuya a una óptima calidad gráfica).
- Cada problema se valorará en 2,5 puntos, siendo la nota del examen la suma correspondiente a los cuatro propuestos.